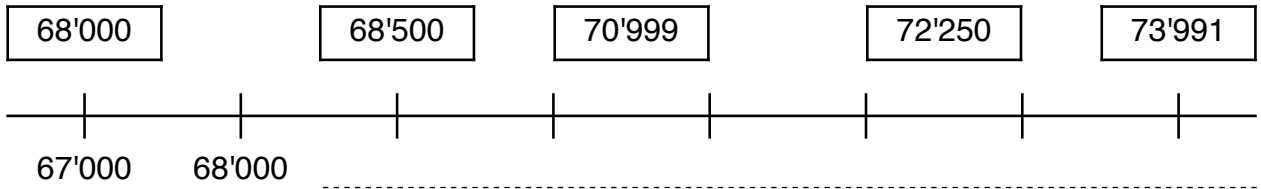


Zahlenstrahl

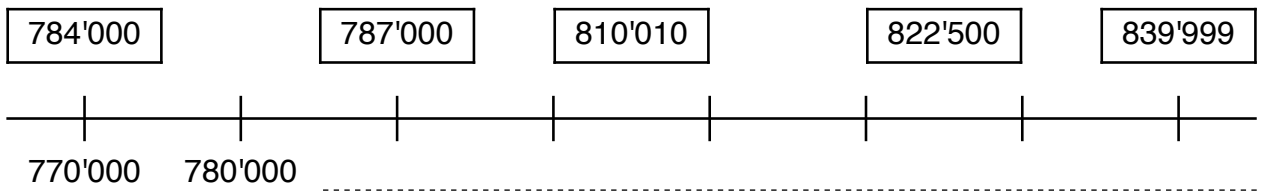
1 **A** Zähle in Tausenderschritten weiter, beschrifte den Zahlenstrahl.

B Wo ungefähr liegen diese Zahlen? Zeichne ein.



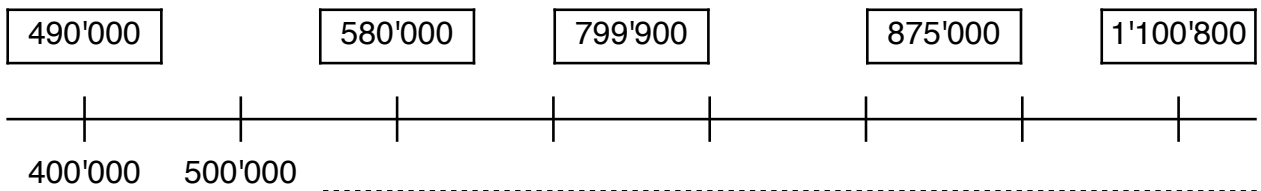
2 **A** Zähle in Zehntausenderschritten weiter, beschrifte den Zahlenstrahl.

B Wo ungefähr liegen diese Zahlen? Zeichne ein.

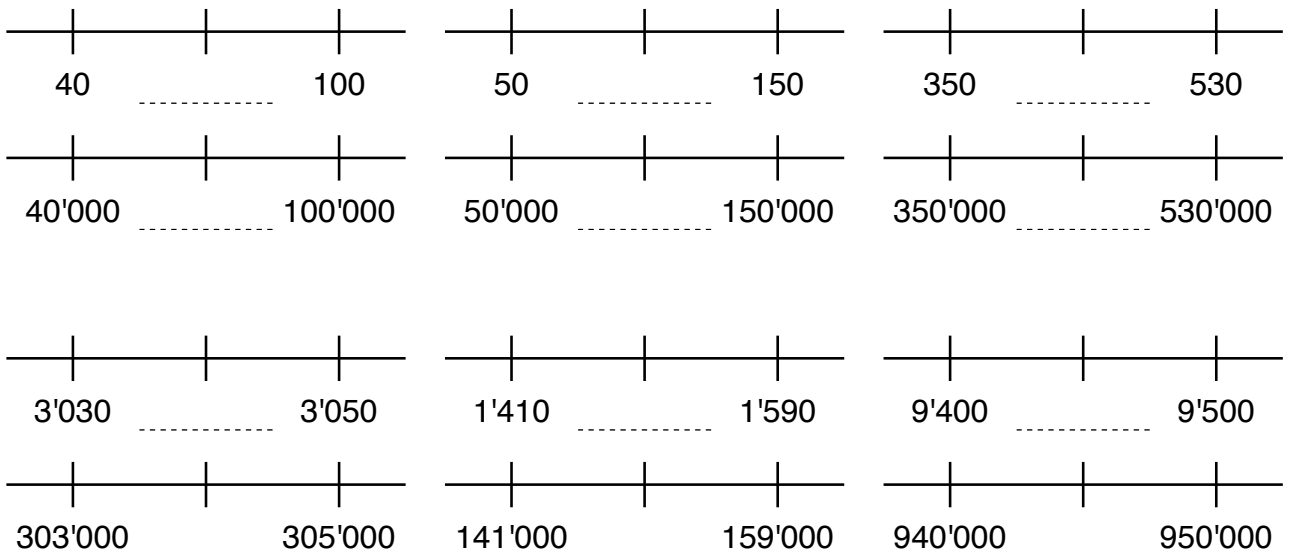


3 **A** Zähle in Hunderttausenderschritten weiter, beschrifte den Zahlenstrahl.

B Wo ungefähr liegen diese Zahlen? Zeichne ein.



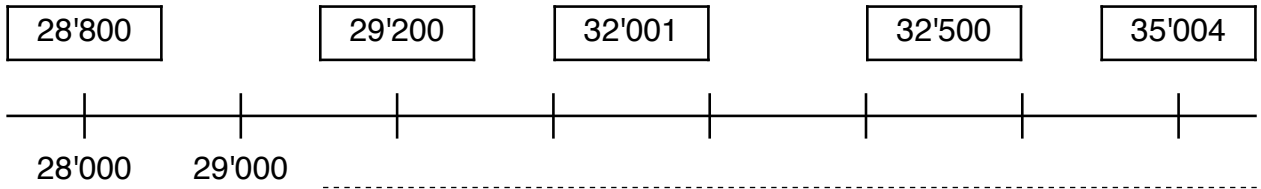
4 Welche Zahl liegt genau in der Mitte?



Zahlenstrahl

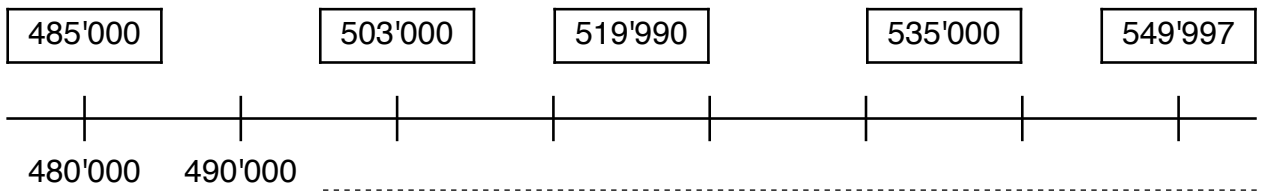
1 **A** Zähle in Tausenderschritten weiter, beschrifte den Zahlenstrahl.

B Wo ungefähr liegen diese Zahlen? Zeichne ein.



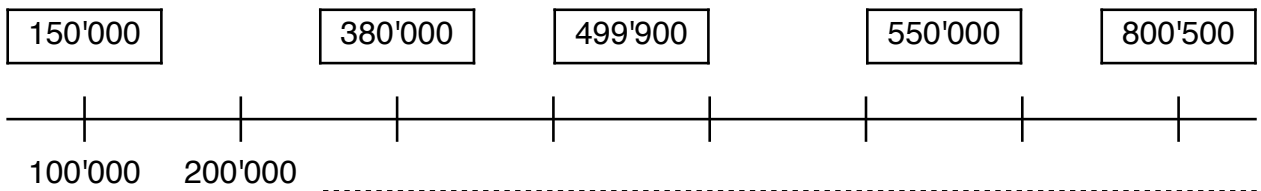
2 **A** Zähle in Zehntausenderschritten weiter, beschrifte den Zahlenstrahl.

B Wo ungefähr liegen diese Zahlen? Zeichne ein.

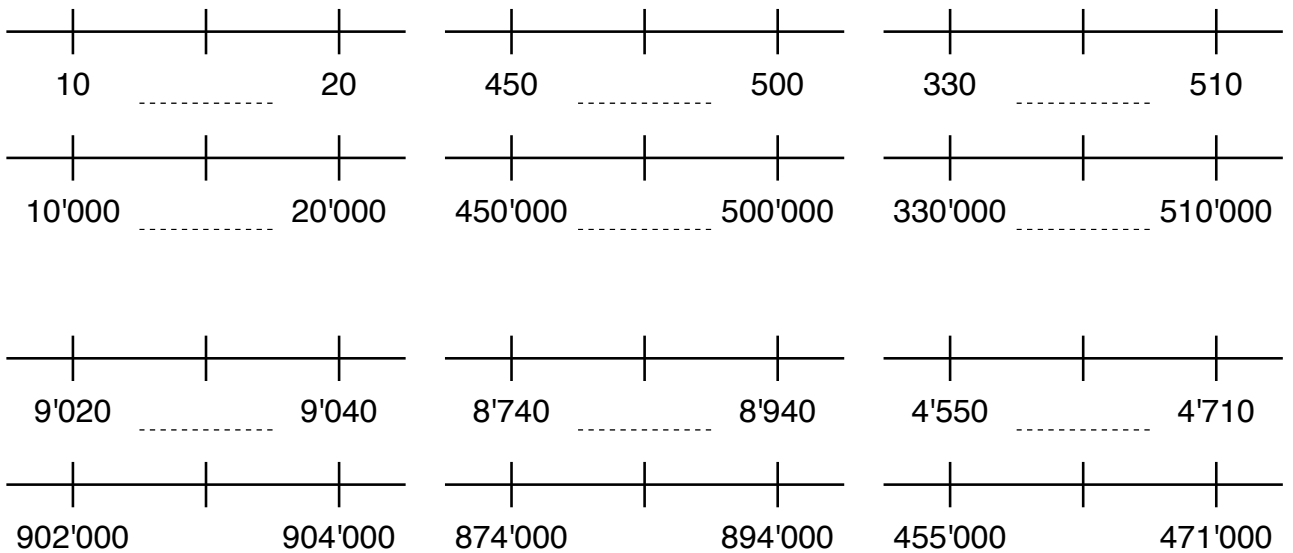


3 **A** Zähle in Hunderttausenderschritten weiter, beschrifte den Zahlenstrahl.

B Wo ungefähr liegen diese Zahlen? Zeichne ein.

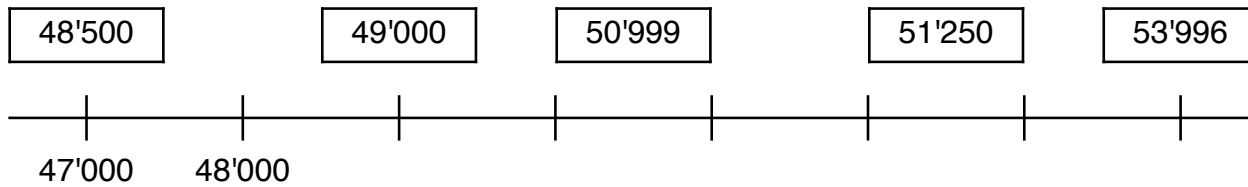


4 Welche Zahl liegt genau in der Mitte?

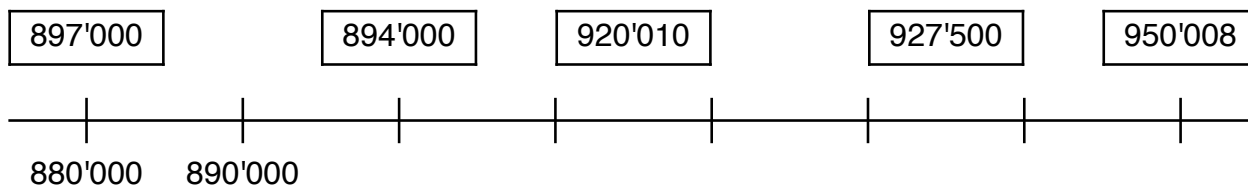


Zahlenstrahl

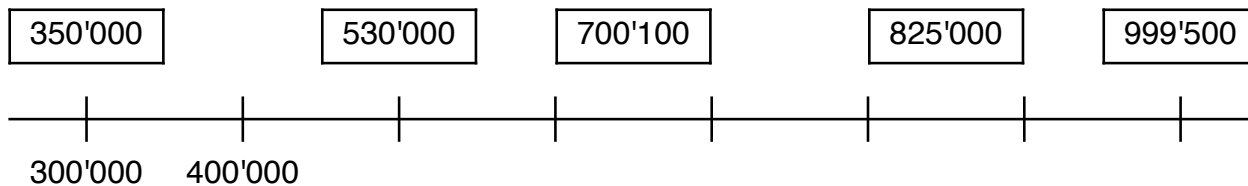
- 1 **A** Zähle in Tausenderschritten weiter, beschrifte den Zahlenstrahl.
B Wo ungefähr liegen diese Zahlen? Zeichne ein.



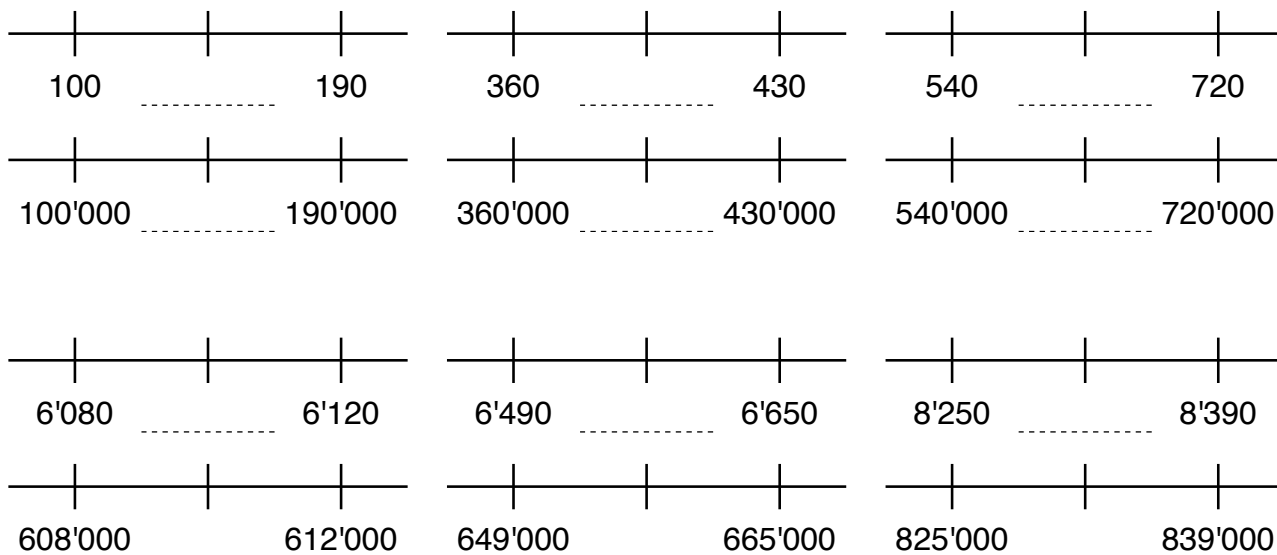
- 2 **A** Zähle in Zehntausenderschritten weiter, beschrifte den Zahlenstrahl.
B Wo ungefähr liegen diese Zahlen? Zeichne ein.



- 3 **A** Zähle in Hunderttausenderschritten weiter, beschrifte den Zahlenstrahl.
B Wo ungefähr liegen diese Zahlen? Zeichne ein.



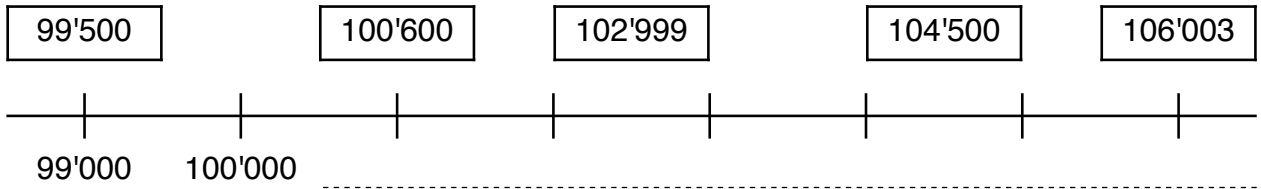
- 4 Welche Zahl liegt genau in der Mitte?



Zahlenstrahl

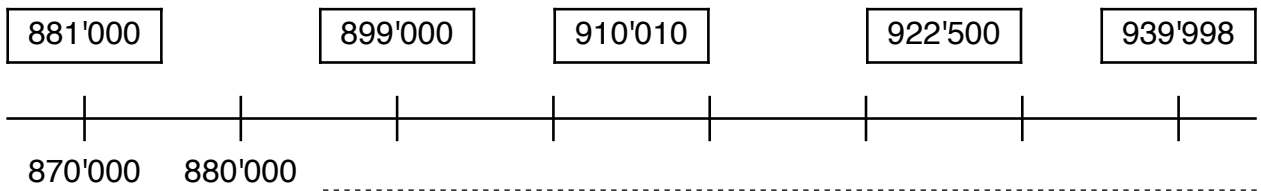
1 **A** Zähle in Tausenderschritten weiter, beschrifte den Zahlenstrahl.

B Wo ungefähr liegen diese Zahlen? Zeichne ein.



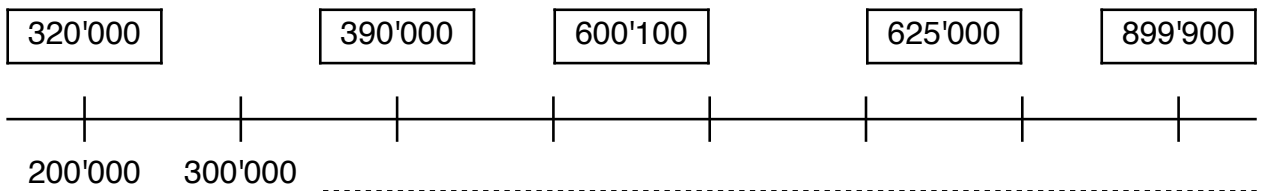
2 **A** Zähle in Zehntausenderschritten weiter, beschrifte den Zahlenstrahl.

B Wo ungefähr liegen diese Zahlen? Zeichne ein.

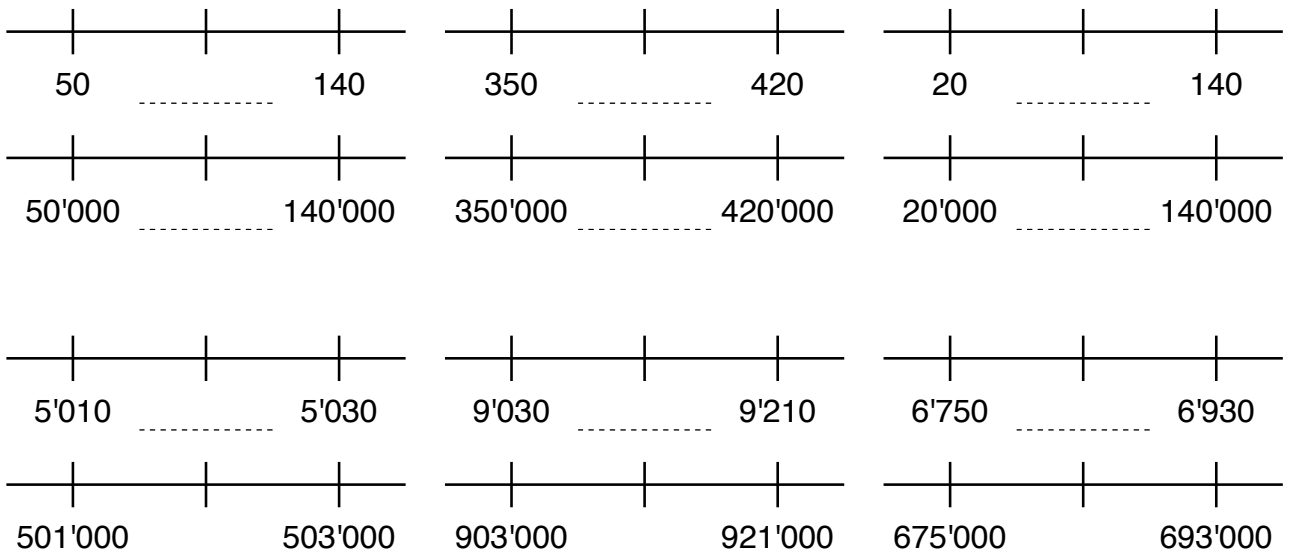


3 **A** Zähle in Hunderttausenderschritten weiter, beschrifte den Zahlenstrahl.

B Wo ungefähr liegen diese Zahlen? Zeichne ein.



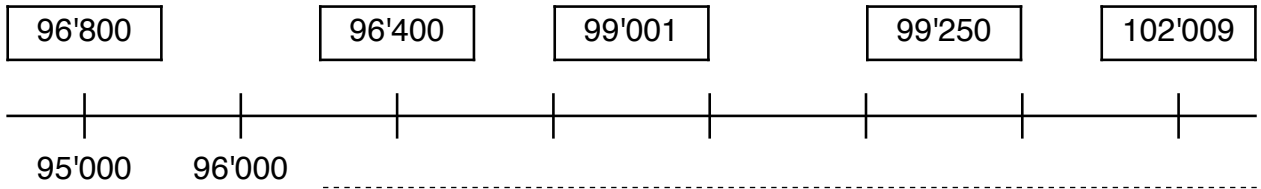
4 Welche Zahl liegt genau in der Mitte?



Zahlenstrahl

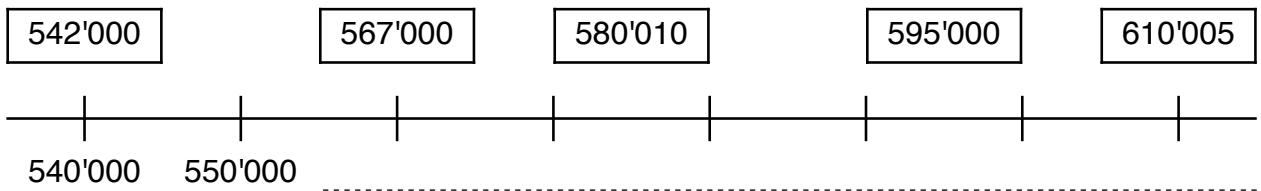
1 **A** Zähle in Tausenderschritten weiter, beschrifte den Zahlenstrahl.

B Wo ungefähr liegen diese Zahlen? Zeichne ein.



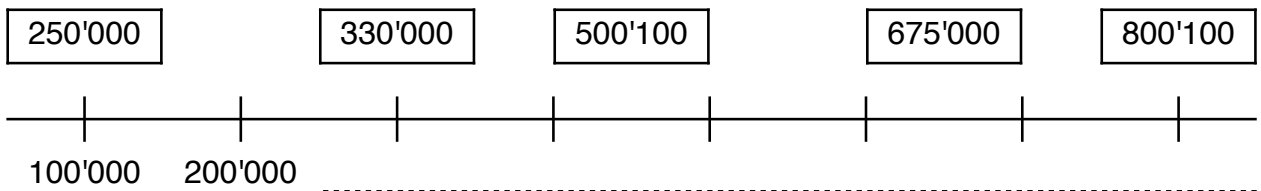
2 **A** Zähle in Zehntausenderschritten weiter, beschrifte den Zahlenstrahl.

B Wo ungefähr liegen diese Zahlen? Zeichne ein.



3 **A** Zähle in Hunderttausenderschritten weiter, beschrifte den Zahlenstrahl.

B Wo ungefähr liegen diese Zahlen? Zeichne ein.



4 Welche Zahl liegt genau in der Mitte?

